


Mathe-Rätsel-Karten - Zahlenraum 20

Ich bin $> 2+3$.

Ich bin $< 10-1$.

Ich bin eine ungerade Zahl.

Welche Zahl bin ich?




kleineschule.com.de

Ich bin $< 16-2$.

Ich bin $> 5+5$.

Ich bin eine gerade Zahl.

Welche Zahl bin ich?



kleineschule.com.de

Ich bin $< 9+9$.

Ich bin $> 5+5$.

Die Summe aller meiner Ziffern ist 5.

Welche Zahl bin ich?



kleineschule.com.de

Ich bin $< 3+7$

Wenn man mich um 2 vergrößert, so erhält man die Zahl > 10 .

Welche Zahl bin ich?



kleineschule.com.de

Ich bin $> 7+8$.

Ich bin $< 20-1$.

Ich bin eine ungerade Zahl.

Welche Zahl bin ich?




kleineschule.com.de

Ich bin $< 15-9$.

Ich bin nicht 4.

Ich bin eine gerade Zahl.

Welche Zahl bin ich?



kleineschule.com.de

Ich bin $> 8+3$.

Ich bin $< 17-3$.

Ich bin eine ungerade Zahl.

Welche Zahl bin ich?



kleineschule.com.de

Wenn man mich um 4 vergrößert, so erhält man die Zahl < 10 .

Wenn man mich um 6 vergrößert, so erhält man die Zahl > 10 .

Welche Zahl bin ich?



kleineschule.com.de