



Rechenrätsel für Kinder - Symbolrechnen



1. Klasse





Jedes abgebildete Symbol bedeutet eine bestimmte Zahl (1-9).
Versuche nun, die Berechnung sinnvoll zu lösen.


	+		=	6
---	---	---	---	---


	=	
---	---	--

	-	1	=	
---	---	---	---	---


	=	
---	---	--

	+		=	7
---	---	---	---	---

	=	
---	---	--

	+		=	
---	---	---	---	---

	=	
---	---	--

	-	?	=	?
---	---	---	---	---

?	=	
---	---	--

Lösung

Jedes abgebildete Symbol bedeutet eine bestimmte Zahl (1-9).
Versuche nun, die Berechnung sinnvoll zu lösen.

$$\boxed{3} + \boxed{3} = \boxed{6}$$

$$\boxed{\text{Blatt}} = \boxed{3}$$

$$\boxed{3} - \boxed{1} = \boxed{2}$$

$$\boxed{\text{Bleistift}} = \boxed{2}$$

$$\boxed{2} + \boxed{5} = \boxed{7}$$

$$\boxed{\text{Basketball}} = \boxed{5}$$

$$\boxed{5} + \boxed{3} = \boxed{8}$$

$$\boxed{\text{Baum}} = \boxed{8}$$

$$\boxed{8} - \boxed{4} = \boxed{4}$$

$$\boxed{?} = \boxed{4}$$