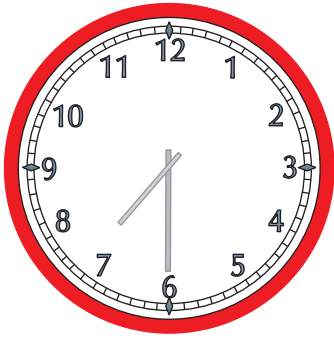


# Mathe Online-Schule

## Wie spät ist es?

Zeichne die Zeiger passend zur Uhrzeit auf den Uhren ein.



7:30 Uhr




14:30 Uhr



12:30 Uhr



18:30 Uhr



20:30 Uhr




6:30 Uhr



10:30 Uhr



11:30 Uhr



15:30 Uhr