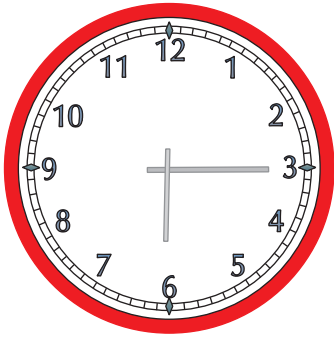


# Mathe Online-Schule

## Wie spät ist es?

Zeichne die Zeiger passend zur Uhrzeit auf den Uhren ein.



6:15 Uhr




18:15 Uhr



10:15 Uhr



12:45 Uhr




7:15 Uhr




16:15 Uhr



15:15 Uhr



8:45 Uhr



20:45 Uhr